

教育夢発信

地域に開かれた特色ある活動 3つの「親しむ活動」への取り組み

1 「本に親しむ活動」の実施

～豊かな心を育てる～

毎週月・水曜日に朝読書

読書月間

・教師・講師・保護者ボランティアによる読み聞かせ

目的別による3つの図書室の活用

・ゆめランド（総合的な学習）

・はかせランド（調べ学習用）

・ちびっこランド（低学年用）



全校読み聞かせ

2 「人に親しむ活動」の実施

～思いやりの心を育てる～

東濃特別支援学校との交流

地域行事への参加

・肥田町青少年育成大集会

・肥田町敬老会

・肥田町文化祭

3 「自然に親しむ活動」の実施

～生命尊重の心を育てる～

「三角山」での教科学習

飼育・栽培活動

・小動物の飼育

・花の栽培

・野菜の栽培

米づくり体験

・地域の皆さんと

田植え、稲刈り体験



肥田町文化祭への参加  
ソーラン節を披露



保護者ボランティアと野菜の苗植え

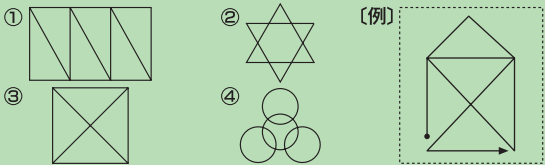
教科書を使って脳トレ

小・中学校で使用する教科書の見本を市立図書館・教育研究所（市役所2階）に展示しています。誰でもご覧になれます。

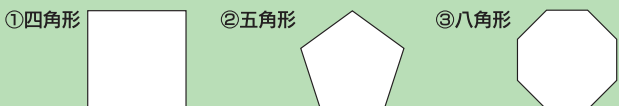
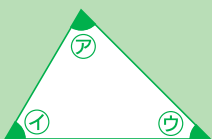
数や図形について考えてみましょう その2

今回は「図形」に関する問題を解いてみましょう。

**Q1** 紙から鉛筆を離さずに、同じ線を1回しか通らないで形を書くことを、「一筆書き」といいます。次の図形で一筆書きができるのはどれでしょう。



**Q2** 三角形の3つの角の大きさの和(ア+イ+ウ)は180°(度)です。次の図形の角の大きさの和は何度でしょう。



**Q3** 次の図形の性質に当てはまるものを(ア)～(オ)から選んで○をつけましょう。

	(ア)	(イ)	(ウ)	(エ)	(オ)
	4つの角が全て直角	向かい合っている2組の辺が平行	4つの辺の長さが全て等しい	2本の対角線の長さが等しい	2本の対角線が垂直に交わっている
長方形					
正方形					
台形					
平行四辺形					
ひし形					

※台形について…どんな台形にも当てはまるものを選びましょう

**Q4** 縦32cm、横24cmの長方形があります。この長方形から同じ大きさの正方形を、いくつか無駄のないように切り取ります。一番大きい正方形の一辺の長さは何cmでしょう。

